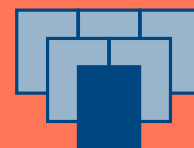


Nástup nacismu v Německu



Proč nacisté získali vládu
nad Německem?



Co budeme sledovat

Budeme pracovat s filmovou ukázkou ilustrující atmosféru Německa před nástupem nacismu, s grafy popisujícími sociální a ekonomické poměry v Německu na začátku 30. let 20. století a také s předvolebním plakátem nacistů.



Co je naším cílem

Ukážeme si, proč se v Německu v roce 1933 chopili moci nacisté a jak se na vzestup nacistické strany dívali „obyčejní“ Němci.



Jméno a příjmení:
.....



Evokační fotografie

Fotografie z neonacistické demonstrace (2012)

Co se podle vás děje na fotografii?



Zdroj: Aktuálně.cz (2012), foto: Ludvík Hradílek



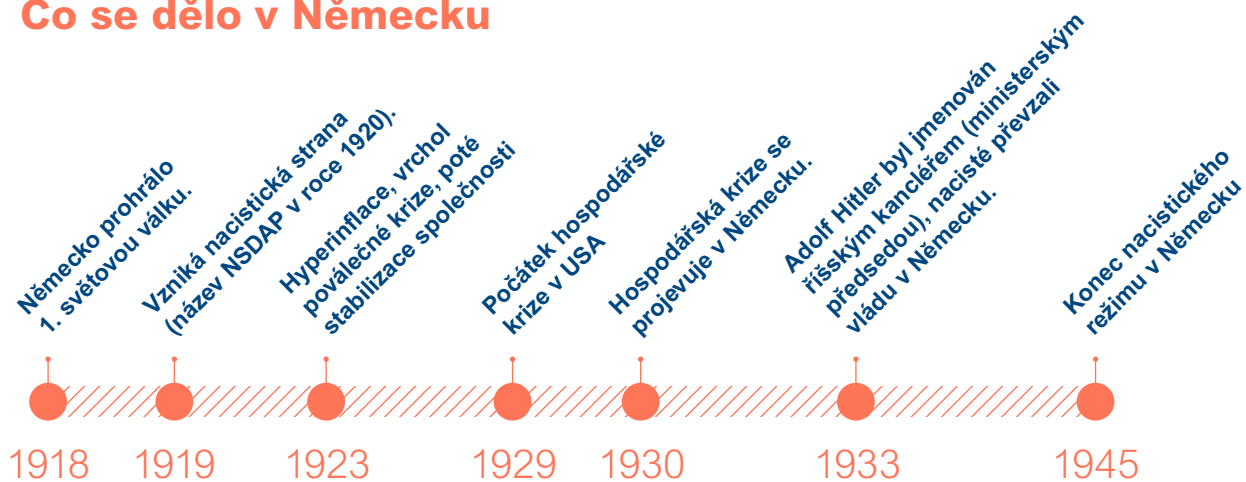
Co se může hodit

Německo po 1. světové válce



Zdroj: Václav Hromada (2022)

Co se dělo v Německu



Zdroj

1

Atmosféra v Německu v létě 1932 (2021)

Ukázka ze současného hraného filmu *Mnichov: Na prahu války* (2021, režie: Christian Schwochow) ilustruje předvolební atmosféru v německém Mnichově v létě 1932. Do Mnichova přijíždí za svými přáteli Paul a Lenou Angličan Hugh. Jejich přátelství ale poznamená politika.

Jaký vztah má k nacismu:



Lena

Paul

Hugh



Zdroj: *Mnichov: Na prahu války* (2021), režie: Christian Schwochow

Co lze na základě ukázky říci o situaci v Německu v létě 1932. Dopln následující věty:

Atmosféra v Mnichově byla...

Lidé očekávali, že...

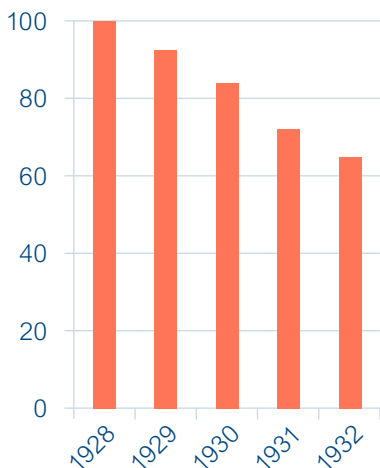
Podívej se znovu na komiks *Německo po 1. světové válce*. Proč podle tebe lidé očekávali změnu?



Zdroj 2

Jak se v Německu vyrábělo

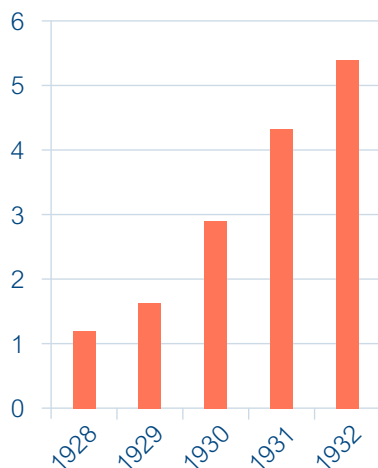
Graf 1 zachycuje relativní úroveň hrubého domácího produktu. To znamená, kolik se vyrábělo v 30. letech 20. století ve srovnání s rokem 1928, který je považován za nejlepší německý rok od konce 1. světové války.



Zdroj 3

Počet nezaměstnaných v Německu

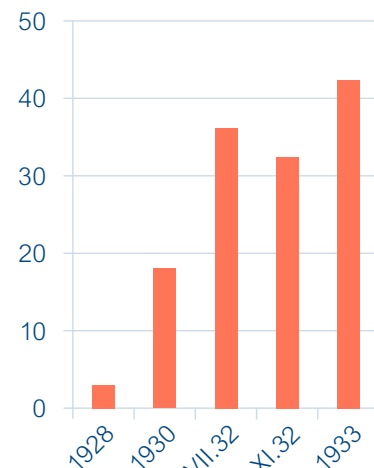
Graf 2 ukazuje, jak se měnil počet nezaměstnaných v Německu. Čísla zachycují počet nezaměstnaných v milionech z celkového počtu 65 milionů obyvatel Německa.



Zdroj 4

Volební úspěchy NSDAP

Graf 3 znázorňuje změnu volebních výsledků nacistické strany (NSDAP) ve 20. a 30. letech 20. století (v procentech z celkového počtu hlasů).



Prostuduj si grafy ve zdrojích 3–5 a rozhodni, které výroky jsou pravdivé.



A.
Nezaměstnanost v Německu v letech 1930–1932 klesala.

ANO / NE

B.
V Německu se v roce 1932 vyrábělo méně výrobků než v roce 1928.

ANO / NE

C.
V každých volbách získávali nacisté o něco více hlasů než v těch předcházejících.

ANO / NE

D.
Většina Němců volila v 30. letech nacisty.

ANO / NE



Zdroj

5

Volební plakát NSDAP (30. léta 20. století)

Nahoře na plakátě je napsáno: *NSDAP chrání národní společenství*. Nápis dole říká: *Soukmenovci, jestli potřebujete pomoc, obraťte se na místní (stranickou) skupinu*.



Co podle tebe má vyjadřovat orel rozpínající svá křídla nad rodinou?

Jaké hodnoty plakát zdůrazňuje?



Zdroj: Facing History & Ourselves (2022)



Co slibuje voličům tento plakát?



Zdroj

6

Zpověď bývalého komunisty (1935)

Filozof **Denis de Rougemont** (1906–1985) pracoval v roce 1935 na univerzitě ve Frankfurtu nad Mohanem. Během svého pobytu se snažil v rozhovorech s Němci pochopit podstatu nacistického hnutí. V jednom z rozhovorů mu bývalý komunista vysvětloval, proč se stal ve svých padesáti letech přívržencem nacismu (nacisté a komunisté se pokládali za úhlavní nepřátele).

My chceme práci a po ránu hrnek kávy s mlékem, to nám stačí. Politika dělníky nezajímá, když mají práci a co jíst. Hitler? Teď, když vyhrál, musí jen uskutečnit svůj program. Ten je skoro stejný, jako byl ten náš! On je ale mazanější, uspokojil buržoazii tím, že nezačal hned útočit na náboženství. Řeknu vám jedno: Pokud ho nechají ve štychu všechna ta tlustá prasata kolem něj... půjdu za něj bojovat! On alespoň je upřímný, on jediný.



Přečti si text a znovu se podívej na zdroj 3 a 4. Jak spolu souvisí nezaměstnanost a volební úspěchy NSDAP?



Badatelská otázka

Proč nacisté získali vládu nad Německem?

Odpověz na úvodní badatelskou otázku.